

Ritaglia e incolla questo rettangolo sul quaderno. Copia le operazioni ed esegui **a mente**. Controlla con la linea del 20 se sono corrette.

$10+10=$

$20-10=$

$5+6=$

$20-9=$

$4+4=$

$15-10=$

$11+8=$

$10-8=$

$17+2=$

$7-5=$

Ritaglia e incolla questo rettangolo sul quaderno. Copia le operazioni ed esegui **a mente**. Controlla con la linea del 20 se sono corrette.

$10+10=$

$20-10=$

$5+6=$

$20-9=$

$4+4=$

$15-10=$

$11+8=$

$10-8=$

$17+2=$

$7-5=$

Ritaglia e incolla questo rettangolo sul quaderno. Copia le operazioni ed esegui **a mente**. Controlla con la linea del 20 se sono corrette.

$10+10=$

$20-10=$

$5+6=$

$20-9=$

$4+4=$

$15-10=$

$11+8=$

$10-8=$

$17+2=$

$7-5=$



## ESERCIZI ORALI

- Conta in **ORDINE DESCRESENTE** da 100 a 1, muovendo il dito sull'armadio.
- Conta per 10, da 10 a 100 e da 100 a 10, muovendo il dito sull'armadio.

10-20-30-40-50-60-70-80-90-100

100-90-80-70-60-50-40-30-20-10

## ESERCIZI SCRITTI

Copia le operazioni ed eseguile **a mente**.

Controlla con la linea del 20 se sono corrette.

$10+8=$

$17-10=$

$9+7=$

$19-9=$

$5+15=$

$15-6=$

$14+6=$

$9-8=$

$17+2=$

$7-5=$





### ESERCIZI ORALI

Conta per 10, da 10 a 100 e da 100 a 10, muovendo il dito sull'armadio.

10-20-30-40-50-60-70-80-90-100

100-90-80-70-60-50-40-30-20-10

### ESERCIZI SCRITTI

Copia le operazioni ed eseguile **a mente**. Controlla con la linea del 20 se sono corrette.

$10+8=$

$17-10=$

$9+7=$

$19-9=$

$5+15=$

$15-6=$

$14+6=$

$9-8=$

$17+2=$

$7-5=$



### ESERCIZI ORALI

Conta per 10, da 10 a 100 e da 100 a 10, muovendo il dito sull'armadio.

10-20-30-40-50-60-70-80-90-100

100-90-80-70-60-50-40-30-20-10

### ESERCIZI SCRITTI

Copia le operazioni ed eseguile **a mente**. Controlla con la linea del 20 se sono corrette.

$10+8=$

$17-10=$

$9+7=$

$19-9=$

$5+15=$

$15-6=$

$14+6=$

$9-8=$

$17+2=$

$7-5=$





### ESERCIZI ORALI

Impara bene a memoria i conteggi per 10 (con i pugnetti, aprendo le dita):

10-20-30-40-50-**60-70**-80-90-100

100-90-80-**70-60**-50-40-30-20-10

### ESERCIZI SCRITTI

Copia le operazioni ed esegui **a mente**. Controlla con la linea del 20 se sono corrette.

$2+3+1=$

$18-9=$

$5+5+7=$

$15-7=$

$10+2+4=$

$16-8=$

$4+4+4=$

$12-6=$

$5+5+5=$

$14-7=$



### ESERCIZI ORALI

Impara bene a memoria i conteggi per 10 (con i pugnetti, aprendo le dita):

10-20-30-40-50-**60-70**-80-90-100

100-90-80-**70-60**-50-40-30-20-10

### ESERCIZI SCRITTI

Copia le operazioni ed esegui **a mente**. Controlla con la linea del 20 se sono corrette.

$2+3+1=$

$18-9=$

$5+5+7=$

$15-7=$

$10+2+4=$

$16-8=$

$4+4+4=$

$12-6=$

$5+5+5=$

$14-7=$



### ESERCIZI ORALI

Impara bene a memoria i conteggi per 10 (con i pugnetti, aprendo le dita):

10-20-30-40-50-**60-70**-80-90-100

100-90-80-**70-60**-50-40-30-20-10

### ESERCIZI SCRITTI

Copia le operazioni ed esegui **a mente**. Controlla con la linea del 20 se sono corrette.

$2+3+1=$

$18-9=$

$5+5+7=$

$15-7=$

$10+2+4=$

$16-8=$

$4+4+4=$

$12-6=$

$5+5+5=$

$14-7=$



### ESERCIZI ORALI

Leggi a voce alta sull'armadio del 100, muovendo il dito:

- i cugini di 1      1-11-21-31-41-51-61-71-81-91
- i cugini di 2      2-12-22-32-42-52-62-72-82-92

### ESERCIZI SCRITTI

Copia le operazioni ed esegui **a mente**. Controlla con la linea del 20 se sono corrette.

$8+8=$	$12-10=$
$7+5=$	$18-11=$
$8+7=$	$15-13=$
$8+9=$	$19-16=$
$9+9=$	$12-0=$



### ESERCIZI ORALI

Leggi a voce alta sull'armadio del 100, muovendo il dito:

- i cugini di 1      1-11-21-31-41-51-61-71-81-91
- i cugini di 2      2-12-22-32-42-52-62-72-82-92

### ESERCIZI SCRITTI

Copia le operazioni ed esegui **a mente**. Controlla con la linea del 20 se sono corrette.

$8+8=$	$12-10=$
$7+5=$	$18-11=$
$8+7=$	$15-13=$
$8+9=$	$19-16=$
$9+9=$	$12-0=$



### ESERCIZI ORALI

Leggi a voce alta sull'armadio del 100, muovendo il dito:

- i cugini di 1      1-11-21-31-41-51-61-71-81-91
- i cugini di 2      2-12-22-32-42-52-62-72-82-92

### ESERCIZI SCRITTI

Copia le operazioni ed esegui **a mente**. Controlla con la linea del 20 se sono corrette.

$8+8=$	$12-10=$
$7+5=$	$18-11=$
$8+7=$	$15-13=$
$8+9=$	$19-16=$
$9+9=$	$12-0=$



### ESERCIZI ORALI

Leggi a voce alta sull'armadio e poi memorizza i numeri cugini di 3 e di 4.

### ESERCIZI SCRITTI

Copia le operazioni ed esegui **a mente**. Controlla con la linea del 20 se sono corrette.

$10+8=$

$13-10=$

$7+10=$

$20-10=$

$10+6=$

$15-10=$

$10+1=$

$19-10=$

$9+10=$

$11-10=$



*Quando fai +10 o -10 il risultato è un numero cugino!*



### ESERCIZI ORALI

Leggi a voce alta sull'armadio e poi memorizza i numeri cugini di 3 e di 4.

### ESERCIZI SCRITTI

Copia le operazioni ed esegui **a mente**. Controlla con la linea del 20 se sono corrette.

$10+8=$

$13-10=$

$7+10=$

$20-10=$

$10+6=$

$15-10=$

$10+1=$

$19-10=$

$9+10=$

$11-10=$



*Quando fai +10 o -10 il risultato è un numero cugino!*



Copia le operazioni ed eseguile **a mente**. Controlla se sono corrette guardando l'armadio del 100.

$20+10=$

$30-10=$

$50+10=$

$60-10=$

$70+10=$

$40-10=$

$80+10+10=$

$70-10=$

$60+10+10=$

$100-10=$



Copia le operazioni ed eseguile **a mente**. Controlla se sono corrette guardando l'armadio del 100.

$20+10=$

$30-10=$

$50+10=$

$60-10=$

$70+10=$

$40-10=$

$80+10+10=$

$70-10=$

$60+10+10=$

$100-10=$



Copia le operazioni ed eseguile **a mente**. Controlla se sono corrette guardando l'armadio del 100.

$20+10=$

$30-10=$

$50+10=$

$60-10=$

$70+10=$

$40-10=$

$80+10+10=$

$70-10=$

$60+10+10=$

$100-10=$



Copia le operazioni ed eseguile **a mente**. Controlla se sono corrette guardando l'armadio del 100.

$20+10=$

$30-10=$

$50+10=$

$60-10=$

$70+10=$

$40-10=$

$80+10+10=$

$70-10=$

$60+10+10=$

$100-10=$





### ESERCIZI ORALI

Leggi a voce alta sull'armadio e poi memorizza **i numeri cugini di 5 e di 6.**

### ESERCIZI SCRITTI

Copia le operazioni ed eseguile **a mente**. Controlla se sono corrette guardando l'armadio del 100.

$25+10=$

$100-10=$

$90+10=$

$85-10=$

$70+10=$

$45-10=$

$55+10=$

$35-10=$

$**95+10=**$

$65-10=$



### ESERCIZI ORALI

Leggi a voce alta sull'armadio e poi memorizza **i numeri cugini di 5 e di 6.**

### ESERCIZI SCRITTI

Copia le operazioni ed eseguile **a mente**. Controlla se sono corrette guardando l'armadio del 100.

$25+10=$

$100-10=$

$90+10=$

$85-10=$

$70+10=$

$45-10=$

$55+10=$

$35-10=$

$**95+10=**$

$65-10=$



### ESERCIZI ORALI

Leggi a voce alta sull'armadio e poi memorizza **i numeri cugini di 5 e di 6.**

### ESERCIZI SCRITTI

Copia le operazioni ed eseguile **a mente**. Controlla se sono corrette guardando l'armadio del 100.

$25+10=$

$100-10=$

$90+10=$

$85-10=$

$70+10=$

$45-10=$

$55+10=$

$35-10=$

$**95+10=**$

$65-10=$



### ESERCIZI ORALI

Leggi a voce alta sull'armadio e poi memorizza i numeri cugini di 7 e di 8.

### ESERCIZI SCRITTI

Copia le operazioni ed esegui a mente. Controlla se sono corrette guardando l'armadio del 100.

$18+10=$

$98-10=$

$47+10=$

$74-10=$

$63+10=$

$55-10=$

$22+10=$

$39-10=$

$91+10=$

$17-10=$

$110+10=$

$105-10=$



### ESERCIZI ORALI

Leggi a voce alta sull'armadio e poi memorizza i numeri cugini di 7 e di 8.

### ESERCIZI SCRITTI

Copia le operazioni ed esegui a mente. Controlla se sono corrette guardando l'armadio del 100.

$18+10=$

$98-10=$

$47+10=$

$74-10=$

$63+10=$

$55-10=$

$22+10=$

$39-10=$

$91+10=$

$17-10=$

$110+10=$

$105-10=$



### ESERCIZI ORALI

Leggi a voce alta sull'armadio e poi memorizza i numeri cugini di 7 e di 8.

### ESERCIZI SCRITTI

Copia le operazioni ed esegui a mente. Controlla se sono corrette guardando l'armadio del 100.

$18+10=$

$98-10=$

$47+10=$

$74-10=$

$63+10=$

$55-10=$

$22+10=$

$39-10=$

$91+10=$

$17-10=$

$110+10=$

$105-10=$



### ESERCIZI ORALI

Leggi a voce alta sull'armadio e poi memorizza i **numeri cugini di 9 e di 10**.

### ESERCIZI SCRITTI

Copia le operazioni ed eseguile **a mente**. Controlla se sono corrette guardando l'armadio del 100.

$10+9=$

$67-10=$

$10+67=$

$28-10=$

$52+10=$

$81-10=$

$10+77=$

$44-10=$

$10+43=$

$16-10$

$**96+10=**$

$**104-10=**$



### ESERCIZI ORALI

Leggi a voce alta sull'armadio e poi memorizza i **numeri cugini di 9 e di 10**.

### ESERCIZI SCRITTI

Copia le operazioni ed eseguile **a mente**. Controlla se sono corrette guardando l'armadio del 100.

$10+9=$

$67-10=$

$10+67=$

$28-10=$

$52+10=$

$81-10=$

$10+77=$

$44-10=$

$10+43=$

$16-10$

$**96+10=**$

$**104-10=**$



### ESERCIZI ORALI

Leggi a voce alta sull'armadio e poi memorizza i **numeri cugini di 9 e di 10**.

### ESERCIZI SCRITTI

Copia le operazioni ed eseguile **a mente**. Controlla se sono corrette guardando l'armadio del 100.

$10+9=$

$67-10=$

$10+67=$

$28-10=$

$52+10=$

$81-10=$

$10+77=$

$44-10=$

$10+43=$

$16-10$

$**96+10=**$

$**104-10=**$



## ESERCIZI ORALI

Leggi questi numeri a voce alta:

**17 – 56 – 98 – 24 – 73 – 21 – 12 – 99 - 1**

Poi apri la linea del 100 in palline, trovine uno alla volta e indicalo con il dito: *spingi su per controllare se hai fatto bene!*

## ESERCIZI SCRITTI

1) Copia le operazioni ed esegui **a mente**. Controlla se sono corrette guardando la linea del 100.

$4+10+10=$

$80-10=$

$19+10+10=$

$39-10=$

$67+10+10=$

$45-10=$

$23+10+10=$

$79-10=$

$71+10+10=$

$88-10=$

$35+10+10+10=$

$**108-10=**$

2) Scrivi sul quaderno i numeri seguenti in cifre e parole e fai la scomposizione.

**33 – 56 – 47 – 98 – 25 – 73 - 105**

*Esempio:*

**33** trentatré

$3da+3u = 30+3 = 33$



## ESERCIZI ORALI

Leggi a voce alta sull'armadio e poi memorizza **i numeri cugini di 9 e di 10**.

## ESERCIZI SCRITTI

Copia le operazioni ed esegui **a mente**. Controlla se sono corrette guardando l'armadio del 100.

$10+9=$

$67-10=$

$10+67=$

$28-10=$

$52+10=$

$81-10=$

$10+77=$

$44-10=$

$10+43=$

$16-10=$

$**96+10=**$

$**104-10=**$

Colora:

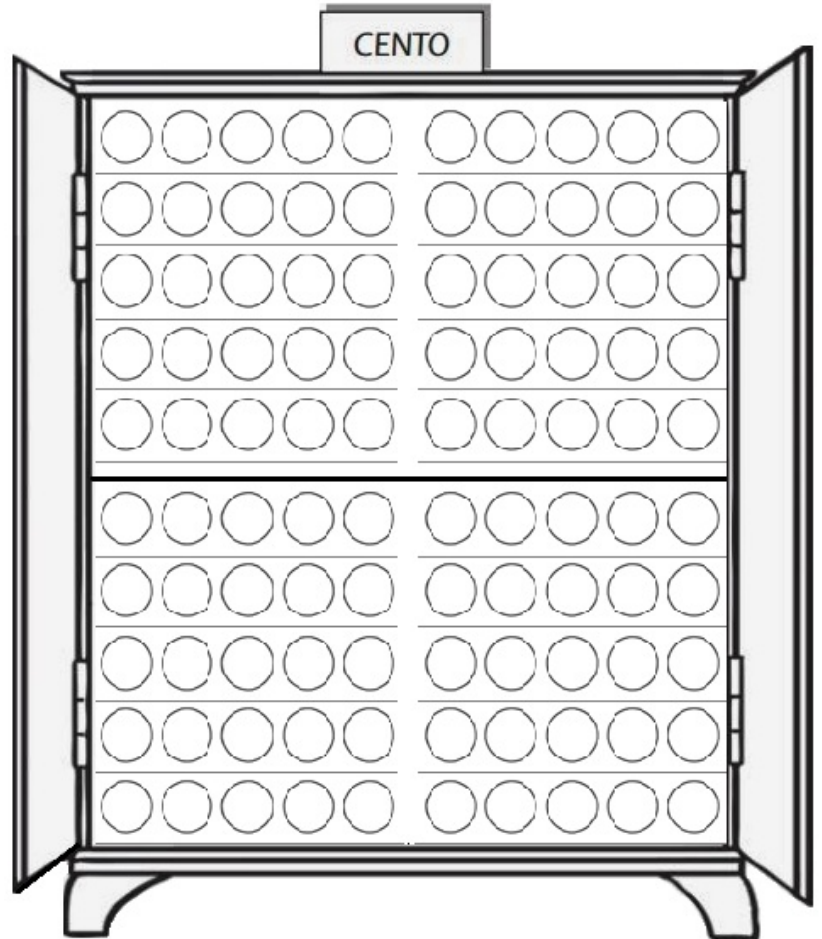
Red → le palline numero:

5 – 28 – 95 – 73 – 50 - 100.

Yellow → la quarta decina.

Blue → la seconda pallina  
della quinta decina.

Pink → l'ultima pallina  
dell'ottava decina.



Colora:

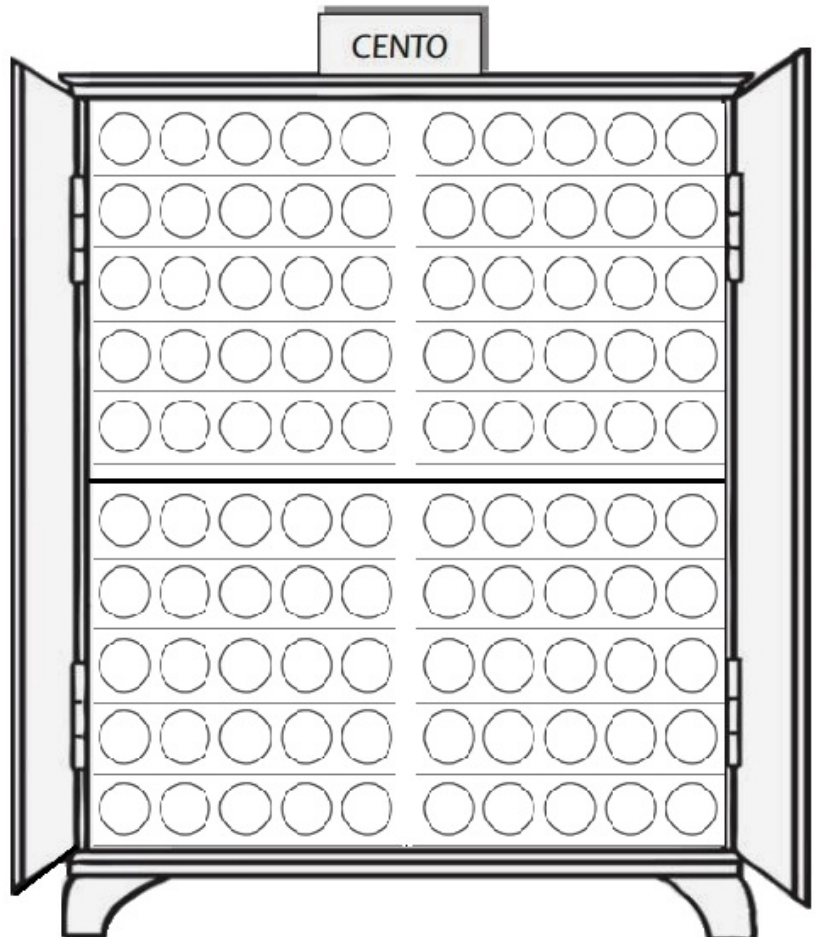
Dark green → le palline n.:

68 – 15 – 45 – 90 - 73.

Light blue → i cugini di 6.

Brown → le ultime due  
decine.

Black → il precedente e il  
successivo di 29.



Colora:

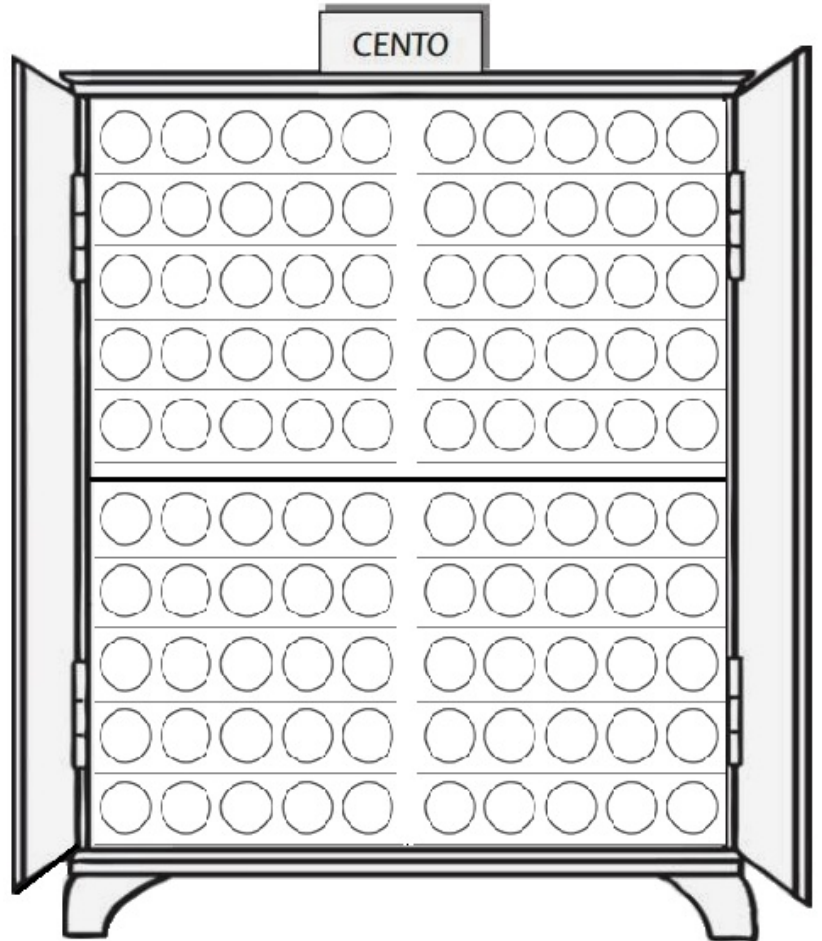
Light orange → la 24<sup>a</sup> pallina.

Grey → la settima decina.

Purple → tutte le palline  
minori di 5.

Pink → la penultima pallina  
della decima decina.

Red → quattro unità vicine a  
tua scelta



Maestra Chiara

<https://maestrachiaradiferivista.org>

Colora:

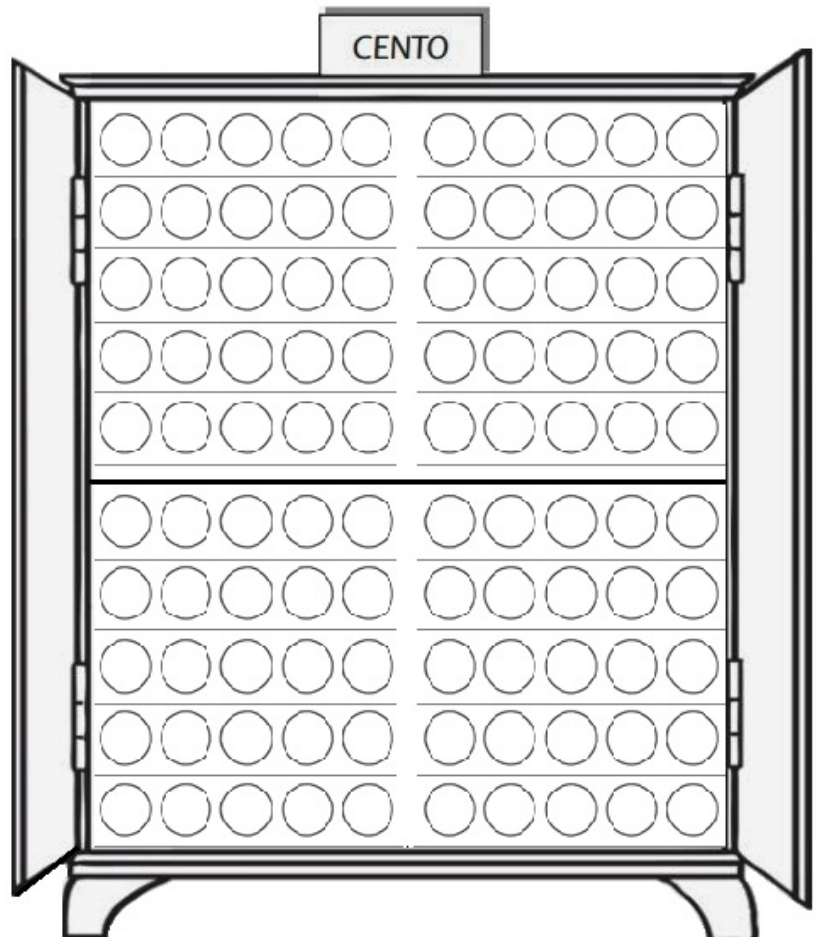
Light brown → una decina di  
palline a tua scelta.

Dark blue → i cugini di 5  
minori di 60.

Red → tutte le palline  
maggiori di 93.

Pink → le palline comprese  
fra 36 e 42.

Red → l'ultima unità.



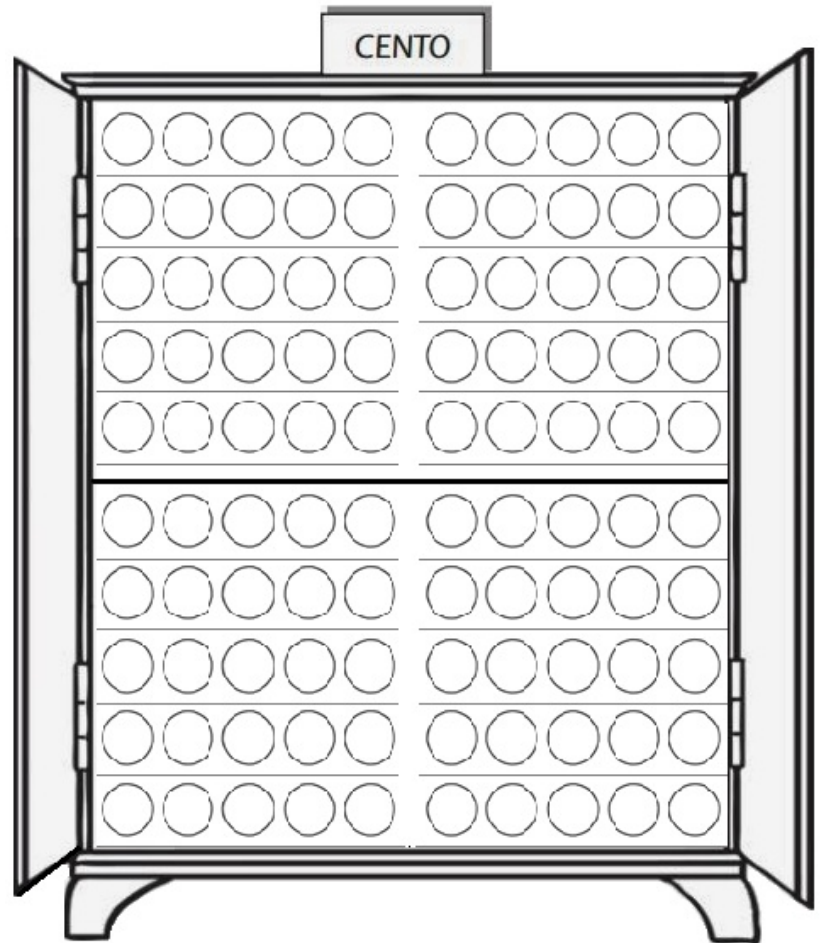
Colora:

Yellow → i cugini di 8.

Dark blue → il numero  
precedente e il successivo  
di 30.

Black →

Brown →



## Croci di numeri


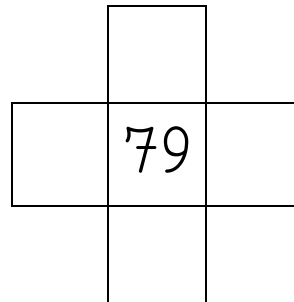
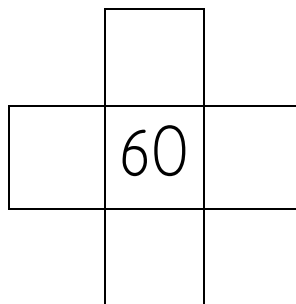
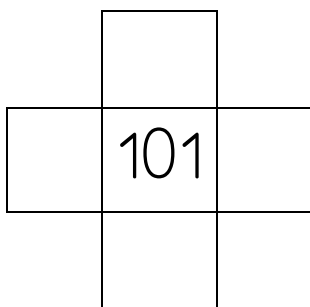
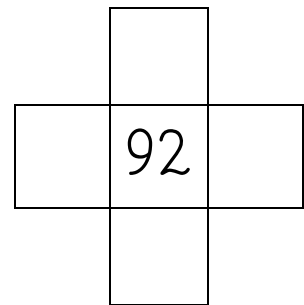
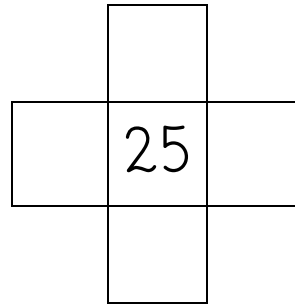
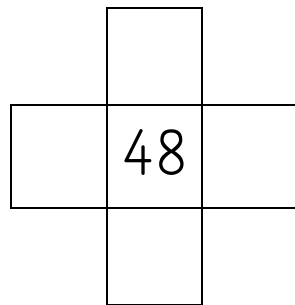
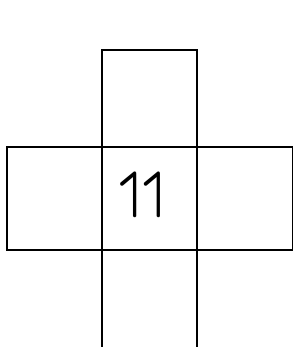
Per ogni numero al centro della croce scrivi:

a SINISTRA: il PRECEDENTE -1

a DESTRA: il successivo +1

SOPRA: il cugino minore -10

SOTTO: il cugino maggiore +10



## Operazioni in tabella

- 10		+10
	17	
	100	
	51	
	99	

- 10		+10
	77	
	23	
	13	
	81	

- 10		+10
	48	
	89	
	50	
	51	

## Calcola il DOPPIO

di 10       $10+10=$  \_\_\_\_\_

di 7      \_\_\_\_\_ = \_\_\_\_\_

di 3      \_\_\_\_\_ = \_\_\_\_\_

di 9      \_\_\_\_\_ = \_\_\_\_\_

di 4      \_\_\_\_\_ = \_\_\_\_\_

di 5      \_\_\_\_\_ = \_\_\_\_\_



## Croci di numeri

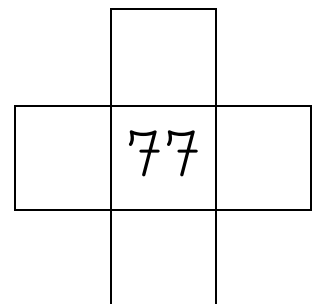
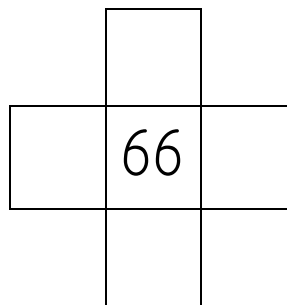
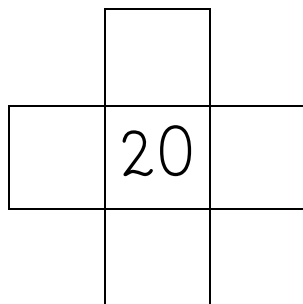
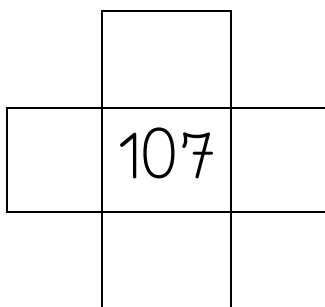
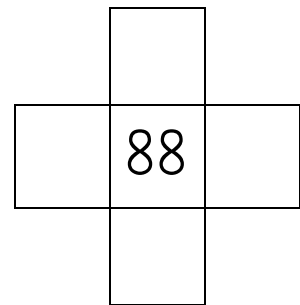
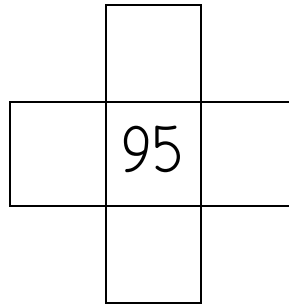
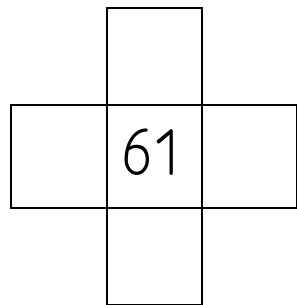

Per ogni numero al centro della croce scrivi:

a SINISTRA: il PRECEDENTE -1

a DESTRA: il successivo +1

SOPRA: il cugino minore -10

SOTTO: il cugino maggiore +10



## Operazioni in tabella

- 10		+10
	89	
	109	
	54	
	23	

- 10		+10
	81	
	73	
	15	
	110	

- 10		+10
	28	
	90	
	53	
	94	

Calcola il DOPPIO (controlla aprendo la linea del 100)

di 11       $11+11=$  \_\_\_\_\_

di 8      \_\_\_\_\_ = \_\_\_\_\_

di 20      \_\_\_\_\_ = \_\_\_\_\_

di 7      \_\_\_\_\_ = \_\_\_\_\_

di 15      \_\_\_\_\_ = \_\_\_\_\_

di 9      \_\_\_\_\_ = \_\_\_\_\_

Leggi con attenzione e risolvi come facciamo a scuola.

### Problema

La maestra ha portato a scuola 15 gessetti. Vincenza ne ha portati altri 10. Quanti gessetti ci sono ora in tutto?

DATI (cerchiali nel testo e sottolinea cosa sono)


\_\_ = n. \_\_\_\_\_

\_\_ = n. \_\_\_\_\_

RICHIESTA

◇ ? = n. \_\_\_\_\_

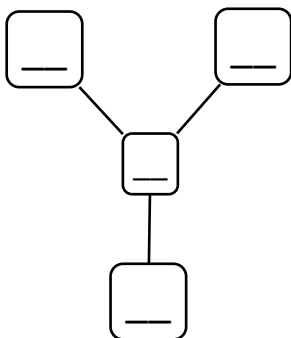
DISEGNO



OPERAZIONE

\_\_\_\_\_

DIAGRAMMA



RISPOSTA (prima rileggi la domanda, poi scrivi)

Ora a scuola \_\_\_\_\_

## Croci di numeri

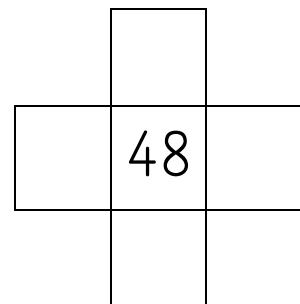
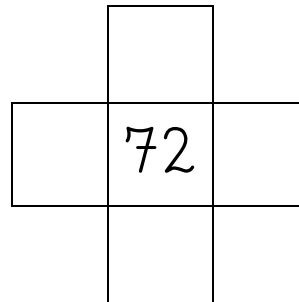

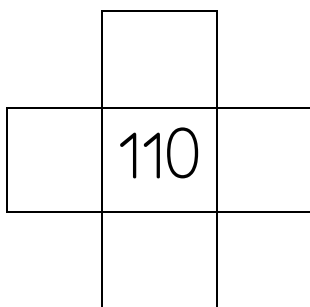
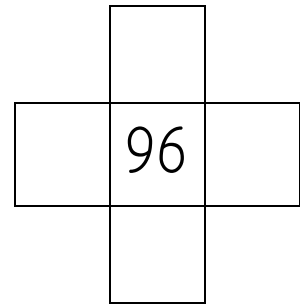
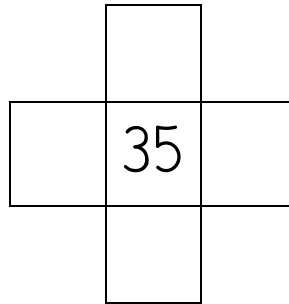
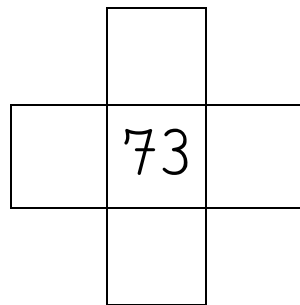
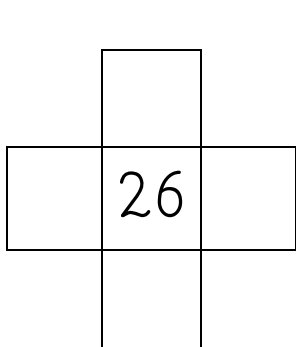
Per ogni numero al centro della croce scrivi:

a SINISTRA: il PRECEDENTE -1

a DESTRA: il successivo +1

SOPRA: il cugino minore -10

SOTTO: il cugino maggiore +10



## Operazioni in tabella

-1		+1
	23	
	54	
	62	
	95	

-10		+10
	16	
	79	
	105	
	111	

-2		+2
	2	
	10	
	15	
	20	

Calcola il DOPPIO (controlla aprendo la linea del 100)

di 5       $5+5=$  \_\_\_\_\_

di 6      \_\_\_\_\_ = \_\_\_\_\_

di 25      \_\_\_\_\_ = \_\_\_\_\_

di 8      \_\_\_\_\_ = \_\_\_\_\_

di 30      \_\_\_\_\_ = \_\_\_\_\_

di 4      \_\_\_\_\_ = \_\_\_\_\_