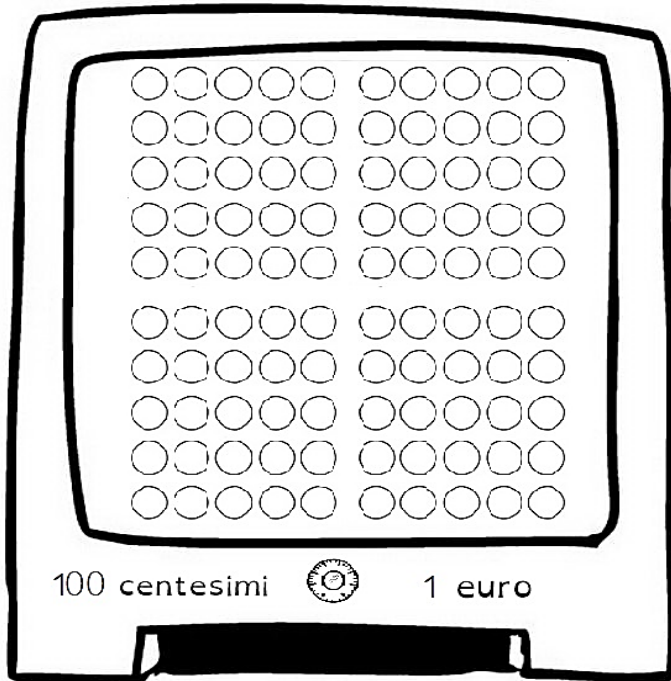


Diego compra una liquirizia che costa 15 centesimi.

Colora

- i centesimi della cassaforte che occorrono a Diego (1 pallina = 1 centesimo);
- le monete a cui equivalgono.



Colora:

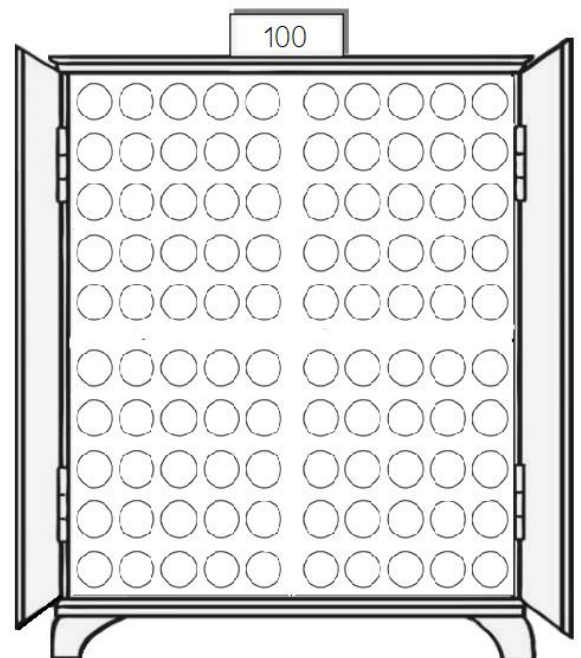
Light green → la 24^a e la 37^a pallina.

Grey → 8 e tutti i suoi cugini.

Dark purple → tutte le palline maggiori di 95.

Brown → la penultima pallina della settima decina.

Red → quattro decine vicine a tua scelta.



Copia sul quaderno. Esegui aprendo la linea del 100.

$10+10+10+10=$

$30+20+10=$

$60+10+20=$

$15+15=$

$20+20+20=$

$40+10+20=$

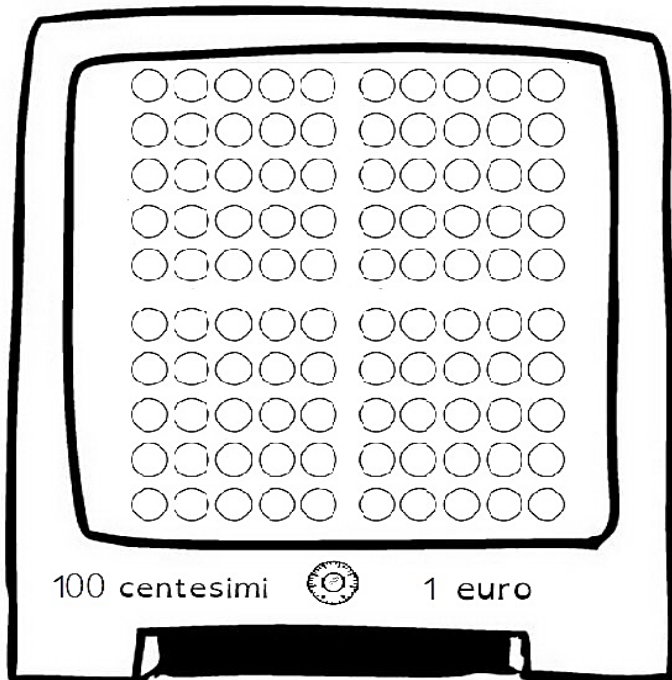
$70+10+10+10=$

$15+10=$

Lorenzo compra un cioccolatino che costa 22 centesimi.

Colora

- i centesimi della cassaforte che gli occorrono (1 pallina = 1 centesimo);
- le monete a cui equivalgono.



Colora:

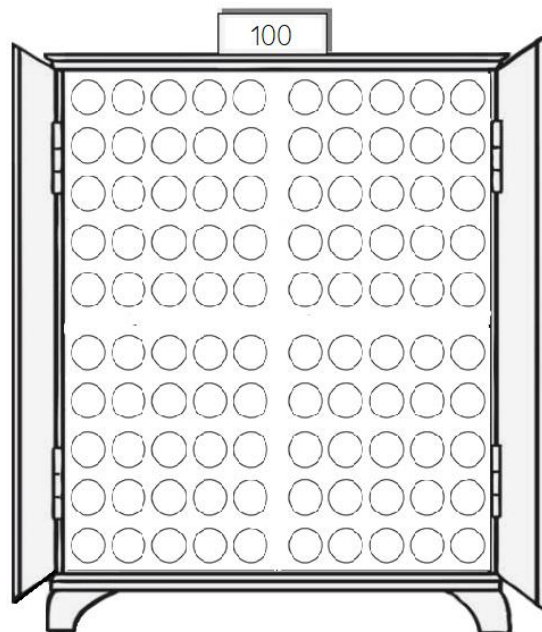
Yellow → la 89^a e la 98^a pallina.

Green → ten dots.

Dark blue → il precedente e il successivo di 30.

Brown → la penultima pallina dell'ottava decina.

Light orange → tre dots vicini a tua scelta.



Copia sul quaderno. Esegui aprendo la linea del 100.

$10+10+10+10+10=$

$10+40+10=$

$50+50+10=$

$25+25=$

$20+20+20+20=$

$50+10+30=$

$30+40+10=$

$25+10=$